

Questionnaire 1

1. Venant du large, vous rencontrez cette marque située face à vous. Que faites-vous?

- A) Vous la laissez indifféremment à droite ou à gauche.
- B) Vous la laissez à gauche.
- C) Vous la laissez à droite.

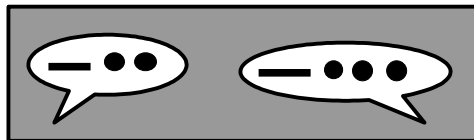


2. Un navire de plaisance à moteur doit présenter la nuit:

- A) Un feu de mât de 225°.
- B) Un feu rouge à l'arrière.
- C) Un feu vert sur le côté bâbord.
- D) Des feux de côté à 112°5 et un feu de poupe à 135°.

3. Au large, dans la brume, vous entendez ces signaux. De quoi s'agit-il ?

- A) Un navire de pêche en action.
- B) Un navire non-maître de sa manœuvre.
- C) Un navire échoué.
- D) Un convoi remorqué.



4. Vous rattrapez un navire à propulsion mécanique. Quels feux pouvez-vous observer ?

- A) Son feu de mât et son feu de poupe.
- B) Ses feux de côtés et son feu de poupe.
- C) Son feu de poupe et l'un de ses feux de côté.
- D) Uniquement le feu de poupe blanc.

5. Un bateau à moteur arrive sur tribord, comment manœuvrez-vous ?

- A) Vous conservez votre cap et votre vitesse.
- B) Vous venez à droite, de manière à passer derrière ce bateau.

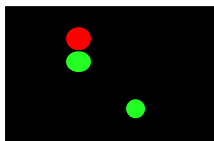
6. Ce panneau concerne les bateaux à moteur, les motos de mer de sport. Les navires de plaisance peuvent-ils le franchir ?

- A) Non.
- B) Oui.



7. Vous voyez ces feux en approche. De quoi s'agit-il et que faites vous?

- A) Un voilier faisant route à la voile seule.
- B) Vous devez manœuvrer.
- C) Un voilier faisant route au moteur.
- D) Vous devez conserver votre cap et votre vitesse.



8. Lesquels de ces signaux peuvent être utilisés en situation de détresse ?

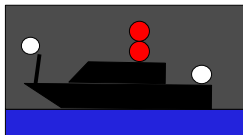
- A) Succession de sons brefs produit à l'aide de la corne de brume.
- B) Succession de sons prolongés produit à l'aide de la corne de brume.
- C) Son continu produit à l'aide de la corne de brume.
- D) Boule de mouillage placée au-dessus ou en dessous d'un pavillon carré quelconque.

9. En route avec erre dans la brume, quel signal faites-vous entendre ?

- A) 1 son prolongé suivi de 2 sons brefs toutes les minutes.
- B) 4 sons brefs toutes les 2 minutes.
- C) 1 son prolongé toutes les 2 minutes.
- D) 2 sons prolongés toutes les 2 minutes.

10. De quel bateau s'agit-il ?

- A) D'un bateau échoué de plus de 50 mètres.
- B) D'un bateau non-maître de sa manœuvre au mouillage.
- C) D'un bateau non-maître de sa manœuvre sans erre.
- D) D'un bateau échoué de moins de 50 mètres.



11. Faisant route au Nord, vous observez un bateau en approche depuis 15 minutes aux relèvements successifs 80°, 85°, 80°. Y a-t-il risque d'abordage et que faites vous?

- A) Il existe un risque d'abordage sur Tribord.
- B) Il n'existe pas de risque d'abordage.
- C) Ce bateau doit s'écarter de votre route.
- D) Vous devez manœuvrer.

12. Un véhicule nautique à moteur croise la route d'un véliplanchiste. Lequel des deux doit s'écarter de la route de l'autre ?

- A) Le véhicule nautique à moteur.
- B) Le véliplanchiste.
- C) Ils doivent manœuvrer tous les deux.

13. Que signifie ce signal météo ?

- A) Avis de coup de vent venant du quadrant SW.
- B) Une annonce de grand frais.
- C) Avis de coup de vent venant du quadrant SE.



14. Ce symbole montré par un navire, indique que ce navire est :

- A) Handicapé par ses engins de pêche.
- B) Non-maître de sa manœuvre.
- C) A capacité de manœuvre restreinte.
- D) Handicapé par son tirant d'eau.



15. De nuit, vous apercevez un feu blanc à occultation dans l'axe du chenal. Quelle est cette marque et que faites vous ?

- A) Une marque de danger isolé.
- B) Une marque d'eaux saines.
- C) Je m'en approche.
- D) Je m'en éloigne.

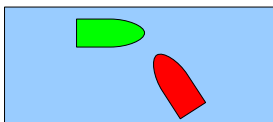
16. De nuit, vous voyez un feu à 9 scintillements blancs. Votre route est au Sud. Qu'en déduisez-vous ?

- A) C'est une cardinale Ouest.
- B) C'est une cardinale Est.
- C) Je dois la laisser à droite.
- D) Je dois la laisser à gauche.



17. Vous êtes sur le bateau rouge :

- A) Je suis privilégié donc je passe coûte que coûte.
- B) Je suis privilégié mais je dois éviter l'abordage.



18. En situation de détresse, à proximité des côtes, quels moyens de communication peuvent être mis en œuvre ?

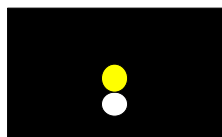
- A) Canal 9 sur un poste V.H.F.
- B) Le 0816 composé sur un téléphone portable.
- C) Le 1616 composé sur un téléphone portable.
- D) Le canal 16 sur un poste V.H.F.

19. Quelle condition faut-il respecter pour tracter un skieur nautique lorsqu'on est seul à bord ?

- A) Évoluer au-delà de 1 mille de la côte.
- B) Disposer d'un enrouleur automatique de la remorque, en cas de chute du skieur.
- C) Être titulaire du Brevet d'état de moniteur de ski nautique.
- D) La chute du skieur doit déclencher une alarme.

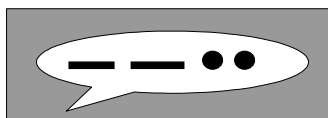
20. De nuit, vous voyez ces feux sur un bateau. Quelle est votre situation ?

- A) Rattrapant d'un voilier faisant route à la voile seule.
- B) Rattrapant d'un remorqueur en action.
- C) Face à un sous-marin en surface, stoppé.
- D) Rattrapant un hydroglisseur.



21. Dans un chenal étroit, un grand navire vous rattrape et émet le signal phonique suivant : 2 sons prolongés suivis de 2 sons brefs. Que faites-vous ?

- A) Je n'ai pas à modifier ma route.
- B) Je stoppe.
- C) Je viens sur bâbord car je suis censé faciliter sa manœuvre.
- D) Je viens sur tribord car je suis censé faciliter sa manœuvre.




22. Faisant route au 90°, vous voyez cette bouée droit devant. Qu'en déduisez-vous ?

- A) Que vous vous dirigez vers des eaux saines.
- B) C'est une cardinale Nord.
- C) Je dois venir rapidement à gauche.
- D) Je dois venir rapidement à droite.



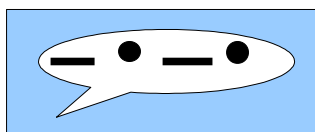
23. Vous faites route à l'Est et apercevez cette bouée droit devant. Quelle est cette marque et que faites-vous ?

- A) C'est une marque cardinale Sud.
- B) Je la laisse à droite.
- C) Je la laisse à gauche.
- D) C'est une maque cardinale Nord.



24. Que signifie ce signal émis par un navire dans un chenal étroit ?

- A) Accord du navire pour être dépassé.
- B) Je suis dans l'impossibilité de manœuvrer.
- C) Je compte vous rattraper sur Tribord.



25. Sur une carte marine, que vous indique ce symbole ?

- A) Un château d'eau visible de la mer.
- B) Une tour visible de la mer.
- C) Une cheminée visible de la mer.



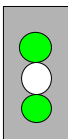
Questionnaire 2

1. Dans la brume, un navire au mouillage peut faire entendre :

- A) Un signal de corne de brume avec 2 sons prolongés toutes les minutes.
- B) Des sons de cloche pendant 5 secondes à 1 minute d'intervalle.
- C) Un signal de corne de brume avec 1 son brefs, 1 son long, 1 son bref en cas de crainte d'abordage.
- D) 3 coups de cloche toutes les minutes.

2. En sortant du port, vous rencontrez ce feu. Qu'en déduisez-vous ?

- A) La circulation est établie à sens unique.
- B) Je peux sortir.
- C) La circulation est établie à double sens.
- D) Je dois attendre les instructions.



3. De nuit, vous sortez du port. De quel côté laissez-vous un feu rouge à 2 éclats ?

- A) A gauche.
- B) A droite.




4. Parmi ces documents, lesquels sont exigibles à bord d'un navire évoluant en « navigation Côtière » (de 2 à 6 milles d'un abri) ?

- A) Le livre des feux et balises.
- B) L'annuaire des marées.
- C) Le règlement international pour prévenir les abordages en mer.
- D) Une carte locale sur support papier ou électronique.

5. Sur une carte marine, que vous indique ce symbole ?

- A) Un château d'eau, visible de la mer.
- B) Une tour visible de la mer.
- C) Un sémaphore visible de la mer.



6. L'erre d'un navire, c'est :

- A) Son enfoncement.
- B) Son déplacement créé par sa propulsion.
- C) La hauteur de sa partie émergée.

7. Quel navire montre ces marques ?

- A) Un remorqueur.
- B) Un navire non-maître de sa manœuvre.
- C) Un navire au mouillage.
- D) Un navire échoué.



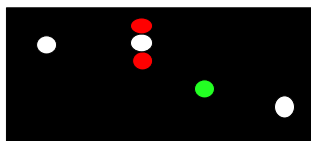
8. Quel est cette marque ? Faisant route au Sud, de quel côté la laissez-vous ?

- A) Cardinale Ouest.
- B) Cardinale Est.
- C) A droite.
- D) A gauche.



9. Par rapport à ce bateau, quelle est votre position ? Que devez-vous faire ?

- A) Je suis à son tribord.
- B) Je suis à son bâbord.
- C) Modifier ma route.
- D) Continuer ma route.




10. Un navire vient de faire entendre 1 son bref. Il indique :

- A) Je viens à droite.
- B) Je viens à gauche.
- C) Je bas en arrière.



11. Le sémaphore de la capitainerie montre ce signal météo. De quoi s'agit-il ?

- A) Avis de coup de vent venant du quadrant NE.
- B) Avis de coup de vent venant du quadrant NW.
- C) Avis de coup de vent venant du quadrant SE.
- D) Avis de coup de vent venant du quadrant SW.



12. Sortant du port, vous rencontrez ce feu vert à occultation ?

- A) C'est une balise latérale bâbord.
- B) C'est une balise latérale tribord.
- C) C'est une marque de chenal préféré à tribord.
- D) Je la laisse à gauche.



13. Dans quel cas pouvez-vous appareiller sans compas de route ?

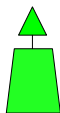
- A) Si le bateau est équipé d'un GPS.
- B) Pour une navigation accomplie à moins de 6 milles.
- C) Pour une navigation accomplie à moins de 2 milles.

14. Un navire de capacité de manœuvre restreinte doit s'écarter de la route :

- A) D'un navire faisant route à la voile seule.
- B) D'un navire en action de pêche.
- C) D'un navire handicapé par son tirant d'eau.
- D) D'un navire non-maître de sa manœuvre.

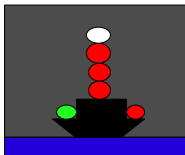
15. Sortant du port, sur quel bord laissez-vous cette balise ?

- A) A tribord.
- B) A Bâbord.
- C) Indifféremment à Bâbord ou à Tribord.



16. Que déduisez-vous de ces feux sur un navire ?

- A) Il est en route avec erre.
- B) Il est en route sans erre.
- C) Il mesure plus de 50 mètres.
- D) Il est handicapé par son tirant d'eau.




17. De nuit, faisant route au 270° du compas, vous voyez un feu blanc à scintillement continu. De quoi s'agit-il et que faites-vous ?

- A) C'est une cardinale Sud.
- B) Il faut la laisser à droite.
- C) C'est une cardinale Nord.
- D) Il faut la laisser à gauche.



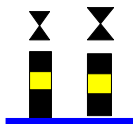
18. Un navire faisant route, fait entendre 7 sons brefs. Que signifient-ils ?

- A) Je suis en avarie de gouverne.
- B) J'ai des doutes sûr votre manœuvre.
- C) Je compte vous dépasser.



19. Sur une carte marine, comment est représenté ce groupe de balises.

- A) Il ne figure pas sur la carte.
- B) Par deux graphismes noirs représentant des cardinales.
- C) Par deux graphismes blancs représentant des cardinales.



20. A partir de quelle longueur un navire est-t-il privilégié sur les autres embarcations, dans un chenal ?

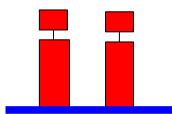
- A) 10 mètres.
- B) 20 mètres.
- C) 50 mètres.
- D) 100 mètres.

21. Vous êtes sans erre dans la brume. Quel signal devez-vous faire entendre ?

- A) 4 sons longs toutes les 2 minutes.
- B) 3 sons longs toutes les 2 minutes.
- C) 1 son long toutes les 2 minutes.
- D) 2 sons longs toutes les 2 minutes.

22. Qu'indiquent ces marques ?

- A) Un chenal principal.
- B) Une marque latérale bâbord.
- C) Un danger nouveau.
- D) Un danger isolé.



23. Jusqu'à quelle distance un véliplanchiste est-il autorisé à s'éloigner d'un abri et que doit-il emporter avec lui ?

- A) 5 milles, s'il porte un gilet de sauvetage et une combinaison .
- B) Des feux automatique à main.
- C) 2 milles, s'il porte un gilet de sauvetage ou une combinaison .
- D) Un moyen lumineux étanche.

24. Quelle est la signification d'une boule noire au mat du sémaphore de la capitainerie.

- A) Météo stable, aucun danger à sortir en mer.
- B) Avis de grand frais, vent pouvant dépasser les 30 nœuds.
- C) Avis d'ouragan.
- D) Météo incertaine, coup de vent ne dépassant pas 16 nœuds.



25. Quelle est cette marque et quelle est votre manœuvre ?


- A) Une marque d'eaux saines.
- B) Une marque de danger isolé.
- C) Je me dirige vers elle.
- D) Je m'en écarte très largement. Je la laisse indifféremment à droite ou à gauche..



Questionnaire 3

1. Ce voilier indique :

- A) Qu'il fait route au moteur.
- B) Qu'il est au mouillage.
- C) Qu'il est en difficulté.

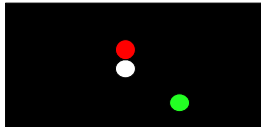


2. Vous êtes en région de balisage B quand vous naviguez aux abords :

- A) Des Antilles.
- B) De la Réunion.
- C) Des îles Anglo-normandes.
- D) De la Guyane.

3. De nuit, vous apercevez ces feux de navire sur bâbord ?

- A) Ce bateau vient de gauche, je suis privilégié.
- B) Ce navire est au mouillage.
- C) Il s'agit d'un navire de pêche.
- D) Je m'en écarte largement en allant à bâbord.



4. L'extincteur doit être vérifié selon une périodicité :

- A) De 1 an.
- B) Définie par le fabricant.
- C) Définie par la réglementation CE.

5. Vous rattrapez un navire. Que pouvez-vous faire ?

- A) Le dépasser sur tribord ou sur bâbord.
- B) Faire entendre 5 sons brefs.
- C) Faire entendre 2 sons prolongés suivis d'un son bref.

6. Un véliplanchiste doit s'écarter de la route d'un bateau de plaisance.

- A) C'est vrai.
- B) C'est faux.

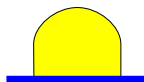
7. Sur une carte marine, que vous indique ce symbole ?

- A) Une marque latérale tribord flottante.
- B) Une marque latérale tribord fixe.
- C) Une cardinale Nord flottante lumineuse.
- D) Une cardinale Nord fixe lumineuse.



8. Quelle est la vitesse maximum autorisée entre cette bouée et la plage ?

- A) 9 nœuds.
- B) 3 nœuds.
- C) 5 nœuds.

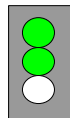


9. Un véhicule nautique à moteur est tenu d'embarquer :

- A) Un compas.
- B) Des gilets de sauvetage dans un coffre étanche.
- C) Un dispositif de remorquage.
- D) Un gilet de sauvetage ou une combinaison néoprène, par personne, portés en permanence.

10. En sortant du port, vous voyez ces feux sur la digue, qu'en déduisez-vous ?

- A) Attendre des instructions.
- B) Passage autorisé à double sens.
- C) Passage autorisé à sens unique.



11. Faisant route au Nord, que vous indique cette marque et que devez-vous faire ?

- A) Un danger à l'Est.
- B) Un danger à Ouest.
- C) Il faut venir à gauche.
- D) Il faut venir à droite.



12. Vous évoluez dans la bande des 300 mètres de la côte, avec 3 personnes à bord. De combien de gilet de sauvetage devez-vous disposer ?

- A) Une bouée de sauvetage de type couronne dispense des gilets de sauvetage.
- B) Un engin collectif de sauvetage dispense de la présence des gilets de sauvetage.
- C) Vous pouvez n'avoir que 2 gilets de sauvetage à bord si vous avez une bouée couronne.
- D) Autant que de personnes à bord.

13. Quelle est cette marque ? Au cap 90°, que faites-vous ?

- A) Cardinale Nord.
- B) Cardinale Sud.
- C) Je viens à droite.
- D) Je viens à gauche.



14. Vous désirez virer sur bâbord . Quel signal faites-vous entendre ?

- A) 1 son prolongé et 2 sons courts.
- B) 1 son court.
- C) 2 sons courts.
- D) 3 sons courts.

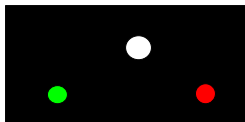
15. Quel bateau montre ce bicolore ?

- A) Un bateau à manœuvre restreinte.
- B) Un chalutier en action.
- C) Un voilier à moteur.
- D) Un remorqueur en action.



16. En mer, droit devant, vous voyez ces feux. Que faites-vous ?

- A) Je ne change rien à ma route et à ma vitesse.
- B) Je viens à droite.
- C) Je viens à gauche.



17. Quelle est cette bouée et en quittant la plage, de quel côté laissez-vous cette balise ?

- A) Balise Tribord de chenal traversier.
- B) Balise Tribord de chenal latéral.
- C) à gauche.
- D) à droite.



18. Vous rencontrez cette marque à 1 mille de l'entrée du chenal.

- A) Il s'agit d'une marque d'eaux saines.
- B) Il convient de faire route dans sa direction.
- C) Il convient de s'en écarter très largement.



19. Dans un chenal étroit, vous entendez un son prolongé. Que faites-vous ?


- A) Je me place dans l'axe du chenal.
- B) J'émetts 5 sons brefs.
- C) J'émetts 5 sons prolongés
- D) J'augmente ma vigilance et J'émetts un son prolongé.

20. Sur un bateau en norme « CE » le nombre d'extincteurs et leurs capacités sont donnés par:

- A) La DDAM.
- B) Le manuel du propriétaire fournie par le fabricant.
- C) Le RIPAM.
- D) laissé au choix du propriétaire.

21. Le sémaphore de la capitainerie montre ce signal météo. De quoi s'agit-il ?

- A) Avis de coup de vent venant du quadrant NW.
- B) Avis de coup de vent venant du quadrant NE.
- C) Avis de coup de vent venant du quadrant SE.
- D) Avis de coup de vent venant du quadrant SW.



22. Un bateau traverse un chenal principal d'accès au port :

- A) Cette manœuvre est interdite.
- B) Ce bateau peut faire entendre 5 sons brefs.
- C) Ce bateau ne doit pas gêner les navires faisant route dans le chenal.
- D) La route suivie doit être oblique par rapport au chenal.

23. Les symboles et les légendes des cartes sont répertoriées dans :

- A) Le RIPAM.
- B) L'ouvrage 1D du SHOM.
- C) DDAM

24. Quel signal peut faire entendre un bateau de plus de 100 mètres au mouillage dans la brume ?

- A) Une volée de cloche + 1 coup de gong toutes les minutes.
- B) 2 sons longs.
- C) 1 sons longs.
- D) Un coup de gong toutes les minutes.

25. Quelle est cette marque ? Faisant route au 360°, de quel côté la laissez-vous ?

- A) Une cardinale Est.
- B) Une cardinale Ouest.
- C) Je la laisse à droite.
- D) Je la laisse à gauche.



Questionnaire 4

1. De nuit vous voyez un feu jaune rythmé. Quel est cette marque ?

- A) Un danger nouveau.
- B) Une marque d'eaux saines.
- C) Une entrée de chenal traversier.
- D) Une marque spéciale.




2. Les navires évoluant jusqu'à 6 milles d'un abri sont dispensés d'une dotation médicale.

- A) Faux
- B) Vrai.

3. De quel bateau s'agit-il ?

- A) un navire à moteur de plus de 50 mètres.
- B) un navire à moteur de moins de 50 mètres.



Comment devez-vous manœuvrer par rapport à ce navire ?

- C) Je m'en écarte largement.
- D) Je conserve mon cap et vitesse.

4. Un plaisancier qui s'adonne à la pêche sportive :


- A) Doit respecter la législation sur les tailles des prises.
- B) Ne doit pas revendre le produit de sa pêche.
- C) Doit déclarer ses prises en capitainerie.

5. Quel moyen utilisez-vous pour traiter un feu de carburant ?

- A) De l'eau mise sous pression par une pompe.
- B) Un extincteur quelconque.
- C) Un seau d'eau.
- D) Un extincteur CO2 ou à poudre.

6. A l'approche d'une plage, que peut indiquer cette marque ?

- A) Une limite de baignade.
- B) Une bouée bâbord de chenal traversier.
- C) Une bouée tribord de chenal traversier.
- D) Zone réservée au stationnement.



7. Que signifie un feu vert à 2 éclats +1, placé à l'entrée du port ?

- A) Une marque latérale tribord.
- B) L'obligation d'emprunter le chenal situé à tribord.
- C) Une marque de chenal préféré à tribord.
- D) Un chenal préféré à bâbord.

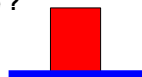


8. Quel est le secteur de visibilité d'un feu de côté ?

- A) 135°.
- B) 22,5°.
- C) 112,5°.
- D) 225°.

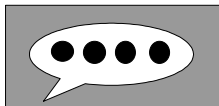
9. Faisant route dans le sens conventionnel, de quel côté laissez-vous cette marque ?

- A) A droite.
- B) A gauche.



10. Quel bateau fait entendre 4 sons brefs dans la brume :

- A) Un bateau pilote.
- B) Un bateau privilégié.
- C) Un remorqueur sans erre.



11. Vous devez demander du secours à l'aide de la VHF. Quelle est la procédure ?

- A) Sélectionner le canal 19.
- B) Sélectionner le canal 16.
- C) Répéter 3 fois MAYDAY suivi du nom et de la position du navire.
- D) Répéter 3 fois PAN PAN suivi du nom et de la position du navire.

12. Qui est plus privilégié qu'un bateau portant un cylindre noir dans la mature ?

- A) Un bateau à capacité de manœuvre restreinte.
- B) Un voilier.
- C) Un bateau non-maître de sa manœuvre.
- D) Un bateau de pêche.



13. Une chute rapide de la pression barométrique vous indique :

- A) Un marais barométrique.
- B) Une amélioration des conditions météorologiques.
- C) Une météo stationnaire.
- D) Une dégradation météorologique.

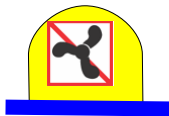
14. La bouée de sauvetage est obligatoire :

- A) Uniquement sur les navires s'éloignant à plus de 2 milles d'un abri.
- B) Sur tous les navires.
- C) Uniquement sur les navires s'éloignant à plus de 6 milles d'un abri.



15. Que signifie ce pictogramme ?

- A) Interdiction d'accès à tous les bateaux.
- B) Interdiction de pratiquer un sport nautique.
- C) Interdiction d'accès à tous les bateaux motorisés.
- D) Ne pas créer de remous.

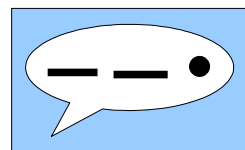


16. En tant que plaisancier, vous tractez une bouée avec 4 personnes dessus. Quelle doit être la capacité minimum du bateau tracteur?

- A) 2 personnes
- B) 5 personnes
- C) 6 personnes

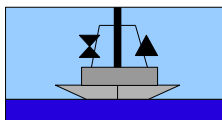
17. Dans un chenal étroit, un grand navire vous rattrape et fait entendre 2 sons prolongés suivis de 1 sons brefs :
Que faites-vous ?

- A) Je n'ai pas à manœuvrer.
- B) Je viens à droite car je suis tenu de lui faciliter le passage.
- C) Je viens à gauche car je suis tenu de lui faciliter le passage.



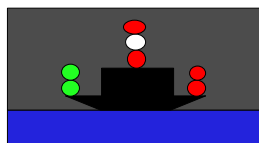
18. Que vous indiquent les marques de ce navire ?

- A) Un navire privilégié en action de pêche.
- B) D'un engin de pêche déployé à plus de 150 mètres.
- C) De passer du côté du cône.



19. Vous rencontrez ces feux dans le chenal portuaire :

- A) C'est un navire handicapé par son tirant d'eau.
- B) Il peut s'agir d'une drague en action avec obstruction.
- C) Vous devez venir sur Tribord.
- D) Vous devez venir sur Bâbord.



20. De nuit, vous observez un feu blanc se déplaçant lentement. De quoi s'agit-il ?

- A) Un bateau en avarie.
- B) Un engin de pêche dérivant.
- C) Un navire de moins de 7 mètres dont la vitesse est inférieure à 7 nœuds.

21. De nuit, un navire à moteur, vue de face, doit présenter :

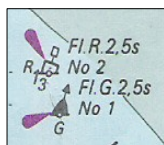
- A) Un feu de mât à 225°.
- B) Un feu rouge à l'arrière.
- C) Un feu vert sur le côté bâbord.
- D) Des feux de côtés à 112,5°.

22. Parmi ces appareils, lequel n'est pas obligatoire pour naviguer à moins de 6 milles d'un abri ?

- A) Un pavillon national.
- B) Un miroir de signalisation.
- C) Un système de pompage.
- D) Un compas de relèvement.

23. Ces bouées rapprochées déterminent :

- A) Une zone réservée à la pêche.
- B) La présence de câbles sous-marins.
- C) Zone ostréicole.
- D) Un chenal balisé.



24. De nuit au large, vous voyez un feu blanc à 2 éclats :

- A) C'est une marque d'eaux saines.
- B) C'est une marque de danger isolé.
- C) C'est une marque cardinale Nord.
- D) C'est une marque cardinale Sud.



25. Vous arrivez face à un bateau de plaisance . Vous devez :

- A) Venir à droite.
- B) Venir à gauche.
- C) Ne pas modifier ma route.

Questionnaire 5

1. De nuit, vous rencontrez ces feux à l'entrée du port. De quelle marque s'agit-il ?

- A) Une marque latérale bâbord.
- B) Une marque de chenal préféré à bâbord.
- C) Une marque de chenal préféré à tribord.
- D) Une marque latérale tribord.



2. Quel est le secteur de visibilité du feu de poupe ?

- A) 90°.
- B) 112,5°.
- C) 135°.
- D) 225°.

3. Comment sont financés les bateaux de la société nationale de sauvetage en mer (SNSM) ?

- A) En totalité par la région ou le département.
- B) En totalité par la marine nationale.
- C) Par des subventions et des dons.

4. En entrant dans un banc de brume, vous devez ?

- A) Allumer ses feux de navigation.
- B) Ralentir.
- C) Se signaler par VHF.
- D) Accélérer pour traverser le banc de brume le plus rapidement.

5. Votre radar indique successivement la présence d'un navire en approche au gisement 90°, 92°, 90°. Qu'en déduisez-vous ?

- A) Il n'y a pas de risques d'abordage.
- B) Il y a risque d'abordage sur tribord.
- C) Il y a risque d'abordage sur bâbord.
- D) Je dois manœuvrer.

6. En météo, laquelle de ces pressions barométriques est dépressionnaire ?

- A) 1023 Hpa.
- B) 1033 Hpa.
- C) 993 Hpa.
- D) 1013 Hpa.

7. Quel est ce navire ?

- A) Chalutier.
- B) Remorqueur.



Devant un bateau montrant ce bicône, vous devez :

- C) Conserver votre cap et votre vitesse.
- D) Vous écarter de sa route.

8. A l'entrée d'un port, vous voyez 3 feux rouges à éclats. Que faites-vous ?

- A) J'attends les feux verts d'autorisation de passer.
- B) Je rentre en faisant route hors du chenal.
- C) Je rentre en utilisant le chenal avec prudence.
- D) Je me déroute, ce port est fermé.




9. Hors d'un chenal, quelle doit être la manœuvre d'un navire rattrapé ?

- A) Réduire son allure.
- B) Venir à droite.
- C) Venir à gauche.
- D) Garder son cap et sa vitesse.

10. Le sémaphore de la capitainerie montre ce signal météo. Quelle est la signification ?

- A) Météo favorable, autorisation de sortir.
- B) Avis de « grand frais » toutes directions.
- C) Avis de « coup de vent ».



11. Il est interdit de mouiller (ancrer) dans une écluse ainsi que dans un chenal :

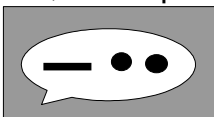
- A) vrai.
- B) Faux

12. Qu'appelle t'ont « brise thermique » ?

- A) Un vent de jour soufflant de la mer vers la terre.
- B) Un vent de nuit soufflant de la terre vers la mer.
- C) Un vent soufflant uniquement au large.
- D) Un vent soufflant uniquement en hiver.

13. Dans la brume, vous entendez 1 son long suivi de 2 sons courts. Quel navire peut faire entendre ce signal ?

- A) Un bateau à moteur de plus de 50 mètres.
- B) Un bateau échoué.
- C) Un remorqueur en tête de convoi.
- D) Un voilier sous voile.



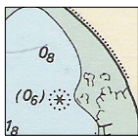
14. Dans quel cas un miroir de signalisation est-il obligatoire à bord ?

- A) Pour une navigation jusqu'à 2 milles d'un abri.
- B) En remplacement de la lampe étanche.
- C) Pour une navigation au-delà de 2 milles d'un abri.



15. Que signifie ce symbole sur une carte :

- A) Une roche qui couvre et qui découvre.
- B) Un phare.
- C) Une roche qui ne couvre pas.
- D) Présence d'une marque spéciale.



16. Quelle est cette marque ? Au cap 270°, que faites-vous ?

- A) Cardinale Nord.
- B) Cardinale Sud.
- C) Je viens à gauche.
- D) Je viens à droite.

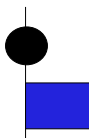


17. Y-a t-il une différence entre la houle et les vagues ?

- A) Oui.
- B) Non.

18. Que signifie ce signal montré par un bateau ?

- A) Je suis en détresse, besoin de secours.
- B) J'ai des plongeurs en action.
- C) J'ai déployé un filet de pêche présentant un danger.
- D) J'ai besoin d'une assistance technique, suite à une avarie.



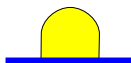
19. Quelle peut être la signification de cette bouée ?

- A) Un danger nouveau.
- B) Un danger isolé.
- C) Un point de passage idéal dans une zone de danger.
- D) Une bouée océanographique.



20. Les balises sphériques jaunes bordant les plages sont disposées :

- A) A 200 mètres de la plage.
- B) A 300 mètres de la plage.
- C) A environ 200 mètres les unes des autres.
- D) A environ 300 mètres les unes des autres.



21. De nuit, vous voyez à Bâbord, un feu vert se rapprochant de vous :

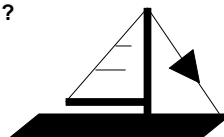
- A) C'est un voilier.
- B) Je suis à tribord de ce navire, je ne modifie pas ma route.
- C) J'attire son attention par 5 sons brefs.
- D) Je modifie ma route.

22. Une mer « Forte » correspond à des vagues de :

- A) 1,25 à 2,50 mètres.
- B) 2,50 à 4,00 mètres.
- C) 4,00 à 6,00 mètres.

23. Devant ce voilier, venant sur bâbord, montrant un cône pointe en bas, que faites-vous ?

- A) Vous devez impérativement manœuvrer.
- B) Il est privilégié.
- C) Il doit s'écarter car il fait route au moteur.
- D) Sauf en cas de danger, vous n'êtes pas tenu de manœuvrer.



24. Une lampe étanche est obligatoire à bord :

- A) Pour une navigation de nuit seulement.
- B) Pour une navigation à plus de 6 milles uniquement.
- C) De jour comme de nuit, à toute distance d'un abri.
- D) Par temps de brume et de nuit uniquement.

25. Dans quels ouvrages trouvent-on les règles en cas de risque d'abordage ?

- A) DDAM
- B) Le RIPAM
- C) Le journal de Bord.

Questionnaire 6

1. Le régime des vents (échelle des Beaufort) est-il le même en Méditerranée qu'en Atlantique ?

- A) Oui.
- B) Non.

2. De nuit vous apercevez ces feux à occultations. Quelles sont ces marques ? Quelle est votre route ?

- A) Des marques latérales.
- B) Un danger nouveau.
- C) Vers la terre.
- D) Vers le large.



3. La brise thermique est créée :

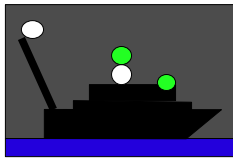
- A) Par la différence de température entre la mer et la terre.
- B) Uniquement en hiver.
- C) Uniquement au large.

4. Vous voulez aller d'un port à un autre situé à 20 milles du premier. Votre vitesse sera de 10 nœuds et votre navire consomme 15 l/h. Combien emporterez-vous de carburant en prenant une marge de sécurité de 30% ?

- A) 39 litres.
- B) 19 litres.
- C) 49 litres.

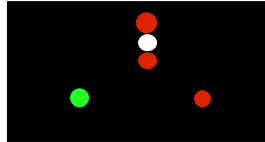
5. Quel est ce navire ?

- A) Un navire handicapé par son tirant d'eau.
- B) Un bateau pilote.
- C) Un remorqueur en action.
- D) Un chalutier en action.



6. De nuit, vous apercevez ces feux, qu'indique ce navire ?

- A) Navire échoué.
- B) Navire avec des plongeurs en action de plongée.
- C) Navire posant des câbles sous-marins.
- D) Navire pilote.

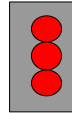


7. Un voilier perd son privilège :

- A) Face à un navire à capacité de manœuvre restreinte.
- B) Face à un navire à moteur au large.
- C) Face à une moto des mers.
- D) S'il rattrape un navire à moteur.

8. A l'entrée d'un port, vous voyez ce signal. Qu'en déduisez-vous ?

- A) Je peux entrer.
- B) La circulation s'effectue à sens unique.
- C) Je peux croiser un autre navire dans le chenal.
- D) Je dois attendre les instructions.



9. Lors d'un contrôle maritime, quels documents devez-vous être en mesure de présenter ?

- A) Une attestation d'assurance.
- B) L'acte de vente du navire.
- C) Le titre autorisant la conduite.
- D) Le titre de navigation du bateau.

10. Qu'est ce qu'un feu à éclats ?

- A) Un feu à temps de lumière supérieur au temps d'obscurité.
- B) Un feu très puissant, visible à plus de 5 milles.
- C) Un feu à temps de lumière inférieur au temps d'obscurité.

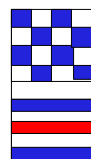
11. Que vous indique ce symbole sur une carte marine ?

- A) Une tour.
- B) Un clocher.
- C) Un château d'eau.
- D) Un sémaphore.



12. Que signifie ces pavillons sur un bateau de plaisance ?

- A) J'ai des plongeurs en action.
- B) J'ai une avarie de gouverne, j'ai besoin d'une assistance technique.
- C) Je suis au mouillage.
- D) Je suis en détresse et j'ai besoin de secours.




13. Pour naviguer à moins de 6 milles d'un abri, vous emportez obligatoirement les appareils suivants :

- A) Un récepteur de prévisions météorologique.
- B) Un ancre avec sa ligne de mouillage.
- C) Un compas de route.
- D) Un radeau de survie.

14. A l'entrée du port, vous rencontrez ce signal. Qu'en déduisez-vous ?

- A) Les bateaux sortants rencontrent 3 feux rouges.
- B) Les bateaux sortants rencontrent 2 feux verts.
- C) L'entrée s'effectue à sens unique.
- D) L'entrée s'effectue à double sens.



15. A partir de 2 milles d'un abri, vous devez posséder à bord ?

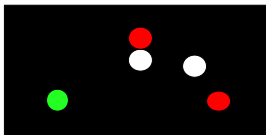
- A) Un compas de route.
- B) Une sonde à main ou un sondeur électronique.
- C) Un compas de relèvement.
- D) Un loch ou un speedomètre.

16. L'indication en NEWTON sur les gilets ou les brassières de sauvetage correspond à la flottabilité ?

- A) Vrai.
- B) Faux.

17. De nuit, vous voyez ces feux. Qu'en déduisez-vous ?

- A) C'est un pêcheur au mouillage.
- B) Un pêcheur qui a déployé un engin de pêche.
- C) Je le laisse à bâbord.
- D) Je le laisse à tribord.



18. Un BMS (bulletin météo spécial) est annoncé à partir d'un vent de :

- A) Force 3 Beaufort.
- B) Force 6 Beaufort.
- C) Force 7 Beaufort.

19. Le numéro de téléphone 08.92.68.02 suivi du numéro minéralogique d'un département, permet d'obtenir :

- A) Des renseignements sur les ports du département.
- B) Le C.R.O.S.S. local.
- C) Les heures et hauteurs de marée locales.
- D) Un bulletin météorologique - rivage ou côte.

20. Dans quel cas la veille est-elle obligatoire ?

- A) Uniquement entre le lever et le coucher du soleil.
- B) En toutes circonstances de navigation.
- C) Uniquement en l'absence de pilote automatique.
- D) Uniquement en l'absence d'alerte radar.

21. Quelle est cette marque ?

- A) Marque de chenal préféré à Bâbord.
- B) Marque de chenal préféré à Tribord.



Avec un bateau à fort tirant d'eau et ne connaissant pas le chenal, de quel côté laissez-vous cette bouée en entrant au port ?

- C) A gauche.
- D) A droite.

22. Au large, un bateau à moteur arrive de votre droite et va couper votre route :

- A) Vous êtes prioritaire, c'est à vous de passer.
- B) De nuit, les règles de priorités sont différentes.
- C) Il est prioritaire, vous le laissez passer.
- D) De nuit, les règles de priorités sont les mêmes.

23. L'échelle verticale à gauche et à droite d'une carte marine représente :

- A) La longitude.
- B) La latitude.
- C) L'altitude.

24. Un téléphone portable peut-il être entendu par un poste VHF en cas de détresse ?

- A) Non.
- B) Oui, à moins de 6 milles.

25. Vous avez l'intention de battre en arrière. Quel signal sonore émettez-vous ?

- A) 1 son bref.
- B) 3 sons brefs.
- C) 5 sons brefs au moins.
- D) 4 sons brefs.

Questionnaire 7

1. Sur une carte, le symbole violet représentant un voilier, indique :

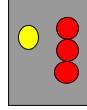


- A) Un port de plaisance.
- B) Un port de pêche.
- C) Une interdiction de rentrée à la voile dans le port.

2. Comment pouvez-vous vous procurer un bulletin météo marine suffisamment précis pour organiser une sortie en mer ?

- A) Par le répondeur téléphonique ou le site internet de Météo France.
- B) Par les informations télévisées régionales.

3. Sortant d'un port, vous voyez ces feux fixes sur la digue. Qu'en déduisez-vous ?



- A) Le port est fermé.
- B) Il est momentanément interdit de sortir.
- C) Il faut attendre des instructions de la capitainerie.
- D) Je peux sortir si mon tirant d'eau permet de passer hors du chenal.

4. La vitesse est limitée à 5 nœuds :

- A) Uniquement quand un panneau l'indique.
- B) Uniquement dans la bande délimitée par les boues jaunes.
- C) Dans la bande des 300 mètres, quelle soit balisée ou non.

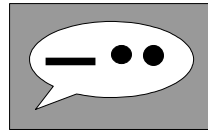
5. Vous voulez aller d'un port à un autre situé à 40 milles du premier. Votre vitesse sera de 10 nœuds et votre navire consomme 10 l/h. Combien emporterez-vous de carburant en prenant une marge de sécurité de 30% ?

- A) 22 litres.
- B) 30 litres.
- C) 40 litres.
- D) 52 litres.

6. Dans la brume vous entendez une volée de cloche, répétés à une minute d'intervalle. De quoi s'agit-il ?

- A) Un navire non-maître de sa manœuvre.
- B) Un navire de moins de 100 mètres au mouillage.
- C) Un remorqueur et sa remorque de plus de 100 mètres.
- D) Un navire échoué.

7. Dans la brume, quels sont les bateaux pouvant faire entendre ce signal ?



- A) Un navire non-maître de sa manœuvre.
- B) Un pilote en opération.
- C) Un voilier faisant route au moteur.
- D) Un navire à capacité de manœuvre restreinte.

8. Lors de l'utilisation d'un feu automatique à main, il convient :

- A) De le tenir verticalement, le plus haut possible.
- B) De se placer au centre du bateau à l'abri du vent.
- C) De prendre en compte la direction du vent avant de déclencher le signal.
- D) De vérifier sa date de péremption avant tout usage.

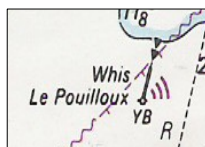
9. Un véliplanchiste doit respecter la réglementation de 5 nœuds de vitesse, dans la zone des 300 mètres :

- A) C'est faux.
- B) C'est vrai.
- C) Uniquement en présence de bouées jaunes.

10. Doit-on toujours porter secours à une personne en détresse ?

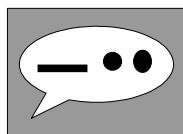
- A) Oui, si cela ne met pas en péril votre bateau et ses passagers.
- B) Oui, toujours.
- C) Non.

11. Ce symbole de la carte indique :



- A) Une épave.
- B) Une bouée munie d'un signal sonore.
- C) Une bouée de pêche.
- D) Une roche affleurante à marée basse.

12. Dans la brume, un son long suivi de deux sons brefs peut indiquer :



- A) Un navire sans erre.
- B) Un navire au mouillage.
- C) Une cardinale Ouest.
- D) Un chalutier.

13. En mer, dans la brume, vous entendez 2 sons longs toutes les 2 minutes. De quoi s'agit-il ?



- A) D'un navire au mouillage.
- B) D'un bateau en route avec erre.
- C) D'un navire en route, stoppé, sans erre.
- D) Bateau privilégié.

14. Où pouvez-vous rencontrer ce pavillon ?

- A) Dans une zone réservée au ski nautique.
- B) Sur un navire en route à grande vitesse.
- C) Sur un navire de plongée.
- D) Sur un flotteur se déplaçant près des côtes, traîné par un plongeur.



15. En météo, on appelle « grains » :

- A) Des bancs de brume.
- B) Des rafales de pluie et de vent.
- C) Des vagues déferlantes.

16. Parmi ces signaux, lesquels sont utilisables pour demander de l'aide en cas de détresse ?

- A) Succession de sons brefs à la corne de brume.
- B) Signal lumineux de 3 éclats courts, 3 éclats longs, 3 éclats courts.
- C) Éclats lumineux rouge répétés.
- D) Mouvements répétés des bras de haut en bas.

17. La pêche sous-marine est interdite :

- A) Entre le coucher et le lever du soleil, sauf si on utilise une lampe étanche.
- B) Juste le matin.
- C) Juste le soir.
- D) Entre le coucher et le lever du soleil.

18. Quel est cette marque ? Vous venez du large, que devez-vous faire ?

- A) Une marque de chenal préféré à bâbord.
- B) Une marque de chenal préféré à tribord.
- C) Je la laisse à bâbord.
- D) Je la laisse à tribord.



19. L'option « côtier » du permis de conduire autorise la navigation jusqu'à :

- A) 2 milles d'un abri.
- B) 10 milles d'un abri.
- C) 6 milles d'un abri.

20. Un moyen de signalisation sonore est obligatoire pour une navigation ?

- A) Pour toutes navigation.
- B) Jusqu'à 2 milles.
- C) A partir de 6 milles.
- D) A partir de 2 milles.

21. la remorque reliant le bateau tracteur et une bouée ou un skieur nautique doit être :

- A) Équipée d'une alarme de chute.
- B) Flottante et de couleur vive.
- C) Équipée d'un enrouleur.

22. Le niveau zéro des mers, indique :

- A) Le niveau des plus basses mers.
- B) Le niveau des plus hautes mers.



La zone verte sur la carte, indique:

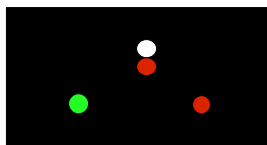
- C) La terre recouverte ou découverte suivant la marée(l'estran).
- D) La terre jamais recouverte par la mer.

23. Quand un voilier doit-il renoncer à son privilège ?

- A) Quand il fait route au moteur.
- B) Quand il rattrape un bateau à moteur.
- C) Quand il croise un véhicule nautique à moteur.

24. De nuit, vous apercevez ces feux, qu'indique ce navire ?

- A) Navire échoué.
- B) Navire avec des plongeurs en action de plongée.
- C) Navire posant des câbles sous-marins.
- D) Navire pilote.



25. Que vous indique ce symbole sur une carte marine ?

- A) Un château d'eau.
- B) Un phare.
- C) Une église.



Questionnaire 8

1. Sortant du port, sur quel bord laissez-vous cette balise ?

- A) Indifféremment à Bâbord ou à Tribord.
- B) A tribord.
- C) A Bâbord.



2. Pour préserver l'environnement quand vous quittez un mouillage, quelles précautions prenez-vous ?

- A) Relevez l'ancre en tirant uniquement sur la chaîne.
- B) Choisir si possible un fond de sable.
- C) Culer le plus possible avant de dégager l'ancre.
- D) Nettoyer l'ancre pour ne pas favoriser la propagation des algues indésirables.

3. Une lampe flash, utilisé comme un moyen lumineux, doit émettre :

- A) Un éclairage rythmé rouge.
- B) Le code lumineux S.O.S.
- C) Un éclairage rythmé occultation blanc.
- D) Juste un éclairage rythmé blanc.

4. La consommation de carburant augmente :

- A) Quand on avance vent arrière.
- B) Quand on avance face au vent et face aux vagues.
- C) Quand la coque est sale.

5. La classification « B » d'un navire de plaisance indique que ce navire est conçu pour des navigations :

- A) Jusqu'à la force 4.
- B) Jusqu'à la force 6.
- C) Jusqu'à la force 8.
- D) Sans limitation .

6. Quel bateau montre ce bicône ?

- A) Un bateau à manœuvre restreinte.
- B) Un chalutier en action.
- C) Un remorqueur dont le train de remorque fait moins de 200 mètres.
- D) Un remorqueur dont le train de remorque fait plus de 200 mètres.



7. Vous faites route au Sud et apercevez cette bouée droit devant. Que faites-vous ?

- A) Je viens à gauche.
- B) Je viens à droite.
- C) Je viens indifféremment à gauche ou à droite.



8. Quelles règles, doit observer le conducteur d'un véhicule nautique à moteur ?

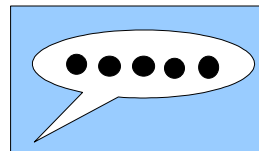
- A) Ne pas s'éloigner à plus de 2 milles d'un abri.
- B) Emporter 3 feux automatiques à main.
- C) Embarquer un moyen lumineux étanche.
- D) Ne pas s'éloigner à plus d'un mille d'un abri.

9. Parmi ces règles, lesquelles doivent être observées par les véhicules nautique à moteur :

- A) Posséder un moyen lumineux étanche
- B) Présenter une marque extérieure d'identité.
- C) Disposer de 3 feux automatiques à main.
- D) Porter un casque.

10. Un navire faisant route, fait entendre 5 sons brefs. Que signifient-ils ?

- A) Je suis en avarie de gouverne.
- B) Non, je dois être titulaire de l'extension « grande plaisance en eaux intérieur » .
- C) Je compte vous dépasser.
- D) J'ai des doutes sûr votre manœuvre.

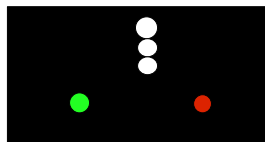


11. Un poste VHF permet d'obtenir ?

- A) La position du navire.
- B) Les appels de détresse des autres navires dans votre zone et La météo marine.
- C) Les appels de détresse envoyés par un téléphone mobile.

12. De nuit, vous apercevez ces feux, qu'indique ce navire ?

- A) Navire échoué.
- B) Navire avec des plongeurs en action de plongée.
- C) Navire posant des câbles sous-marins.
- D) Navire remorqueur.



13. Que signifient ces pavillons ?

- A) Tenez-vous à plus de 20 mètres.
- B) Tenez-vous à plus de 50 mètres.
- C) Tenez-vous à plus de 100 mètres.
- D) Tenez-vous à plus de 300 mètres.



14. Le bulletin météo rivage, vous annonce un « coup de vent ». A quelle situation devez-vous vous attendre ?

- A) Vagues modérées.
- B) Vent de force 8
- C) Vitesse du vent inférieure à 60 Km/h.

15. Vous faites route au Sud et apercevez cette bouée droit devant. Que faites-vous ?

- A) Je viens à gauche.
- B) Je viens à droite.
- C) Je viens indifféremment à gauche ou à droite.



16. Quelles précautions observez-vous pour tracter un engin pneumatique ?

- A) Une flamme fluorescente à l'arrière de l'engin tracté.
- B) Une flamme fluorescente sur le bateau tracteur.
- C) Port d'un gilet de couleur vive pour les passagers de l'engin.
- D) Évolution dans la zone des 300 mètres uniquement.

17. Un bateau classé en catégorie de conception C peut sortir par :

- A) Jusqu'à force 6.
- B) Jusqu'à force 8 Beaufort.
- C) Jusqu'à 2 mètres de vagues.
- D) Jusqu'à 4 mètres de vagues.

18. Pour la pêche sous marine, vous n'est pas autorisé ?

- A) D'utiliser un fusil harpon.
- B) D'attraper les crustacés avec les mains.
- C) De ramasser les coquillages.
- D) D'utiliser un appareil respiratoire.

19. Quelles brassières ne sont pas autorisées à bord d'un navire de plaisance ?

- A) A gonflage buccal uniquement.
- B) A déclenchement hydrostatique.
- C) A déclenchement par pastille de sel.

20. Vous faites route au Sud et apercevez cette bouée droit devant. Que faites-vous ?

- A) Je viens à gauche.
- B) Je viens à droite.
- C) Je viens indifféremment à gauche ou à droite.



21. Combien de casiers pouvez-vous avoir en action de pêche ?

- A) 3 casiers
- B) 1 casier.
- C) 2 casiers.

22. Lors d'une infraction, l'autorité maritime peut-elle vous retirer votre permis ?

- A) Non.
- B) Oui, mais on peut vous le retirer que provisoirement.
- C) Oui, ce retrait peut être provisoire ou définitif.

23. Lesquels de ces documents ne sont pas exigibles en cas de contrôle, à moins de 6 milles d'un abri ?

- A) Le journal de bord.
- B) Le livre des feux.
- C) Le R.I.P.A.M.

24. Quelles sont les missions des CROSS ?

- A) Assurer le remorquage des bateaux en détresse.
- B) Coordonner les opérations de sauvetage en mer.
- C) Assurer le dépannage des navires en avaries.
- D) Assurer la surveillance des zones maritimes.

25. Sur une carte, le symbole violet représentant un poisson, indique :

- A) Un port de plaisance.
- B) Pêche interdite.
- C) Un port de pêche.



1. De combien de casier êtes vous autorisé à posséder en pêche de loisir ?

- A) 1 casier.
- B) 2 casiers.
- C) 3 casiers.

2. Le bateau support auquel est rattachée une annexe (bateau de servitude), est-il considéré comme un abri ?

- A) Oui
- B) Non

3. En Guyane, à St Pierre de Miquelon , le balisage latéral est-il différent quand métropole ?

- A) Oui
- B) Non

4. Le port des gilets ou brassières de sauvetage, dont la responsabilité en revient au chef de bord, est juste nécessaire pour :

- A) les enfants.
- B) pour toutes les personnes.

5. A bord d'un bateau, y a t-il du matériel obligatoire ?

- A) Oui.
- B) Non.

Y a t-il la possibilité dans ajouter en plus ?

- C) Oui.
- D) Non.

6. En météo marine , qu'appelle t-on des moutons ?

- A) des nuages.
- B) Des vagues avec de l'écume blanche.

Correction.

	1	2	3	4	5	6	7	8
1	C	B C	B	D	C	A	A	B
2	A D	D	A D	B	C	A D	A	B D
3	D	B	C D	A C	C	A	B D	D
4	D	C D	B	A B	AB	A	C	B C
5	B	C	A	D	BD	D	D	C
6	A	B	B	B	C	B C	B	D
7	A B	D	D	D	AD	A D	A D	B
8	C D	B C	C	C	D	B	C D	A C
9	C	A C	C D	B	D	C D	B	A B
10	A	A	B	A	B	C	A	D
11	A D	A	B D	B C	A	B	B	B
12	A	B D	D	A C	AB	D	D	D
13	A	C	B C	D	CD	B C	C	C
14	D	D	C	A	C	A C	C D	B
15	B C	B	D	C	A	A	B	A
16	A D	A D	B	C	AD	A	B D	B C
17	B	C D	A C	C	A	B D	D	A C
18	C D	B	A B	A B	A	C	B C	D
19	C	A	D	B D	D	D	C	A
20	B	B	B	C	BC	B	D	C
21	D	D	D	A D	AD	A D	B	C
22	B C	C	C	D	B	C D	A C	C
23	A C	C D	B	D	CD	B	A B	A B
24	A	B	A	B	C	A	D	B D
25	A	B D	B C	A	B	B	B	C

